

14. 順序集合

植野真臣

電気通信大学 情報数理工学コース

本授業の構成

- 第1回 10月2日：第1回 命題と証明
- 第2回 10月9日：第2回 集合の基礎、全称記号、存在記号
- 第3回 10月16日：第3回 命題論理
- 第4回 10月23日：第4回 述語論理
- 第5回 10月30日：第5回 述語と集合
- 第6回 11月6日：第6回 直積と冪集合
- 第7回 11月13日：第7回 様々な証明法 (1)
- 第8回 11月20日：第8回 様々な証明法 (2)
- 第9回 12月4日：第9回 様々な証明法 (再帰的定義と数学的帰納法)
- 第10回 12月11日：第10回 写像 (関数) (1)
- 第11回 12月18日：第11回 写像 (関数) (2)
- 第12回 12月25日：第12回 写像と関係：二項関係、関係行列、
グラフによる表現
- 第13回 1月15日：第13回 同値関係
- 第14回 1月22日：第14回 順序関係：半順序集合、
ハッセ図、全順序集合、上界と下界
- 第15回 1月29日：第15回 期末試験

1. 本日の目標

- ① 半順序
- ② 全順序
- ③ ハッセ図
- ④ 最大元, 最小元
- ⑤ 極大元, 極小元
- ⑥ 上界、下界
- ⑦ 上限、下限

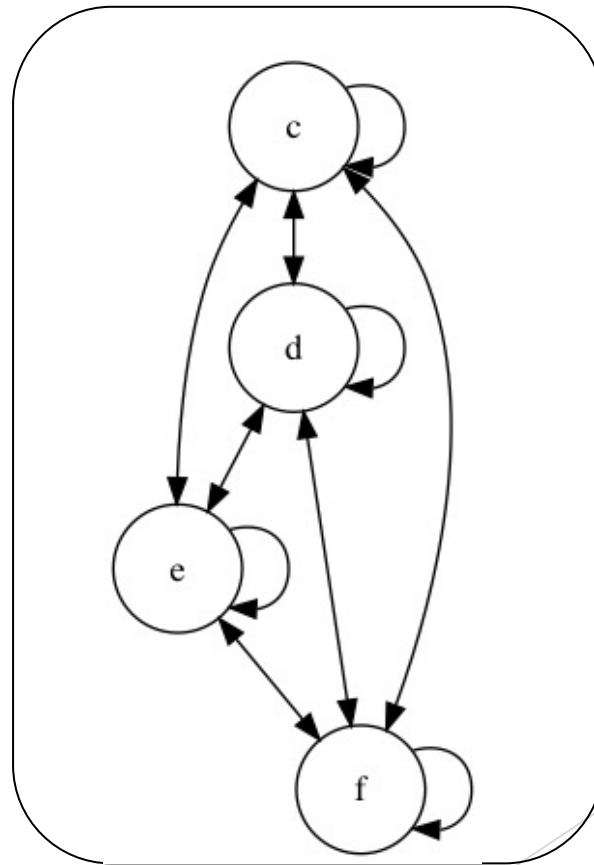
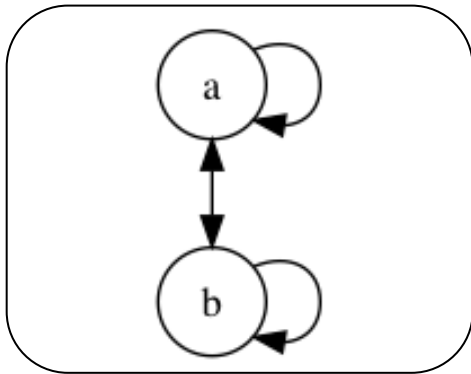
復習：同値関係

Def 3.

U 上の関係 R が以下の条件を満たすとき、 R を同値関係と呼ぶ。

- (1) 反射律 $\forall x \in U, xRx$ 自分自身は自分自身と関係ある
- (2) 対称律 $xRy \rightarrow yRx$ 自分の関係者にとって自分は関係者
- (3) 推移律 $xRy \wedge yRz \rightarrow xRz$ 関係者の関係者は関係者

同値関係のグラフ例



1. 順序集合

Def 1. 集合の要素間の「順序関係」が定義された集合の事。「順序」とは大小、高低、長短等の序列に関わる概念を抽象化したものである

例

整数、実数、など

2. 半順序集合と全順序集合

「AさんはBさんの子孫である」という事を「 $A < B$ 」という順序関係とみなす事で人間全体の集合も順序集合と考えられる。 →

- 赤の他人には順序判定はできない。このように比較不可能のケースを許すことを強調した順序関係を半順序（関係）と呼び、その集合を半順序集合と呼ぶ。
- 半順序集合の中で順序が比較可能な部分集合を全順序（関係）と呼び、その集合を全順序集合と呼ぶ。

3. 半順序関係

Def. 2

U 上の関係 R が以下の条件を満たすとき、半順序(関係)と呼ぶ。

(1) 反射律 $\forall x \in U [xRx]$

(2) 反対称律 $xRy \wedge yRx \rightarrow x = y$

(3) 推移律 $xRy \wedge yRz \rightarrow xRz$

このとき、 (U, R) を半順序集合と呼ぶ。

同値関係と何が違う？

Def 3.

U 上の関係 R が以下の条件を満たすとき、 R を同値関係と呼ぶ。

- (1) 反射律 $\forall x \in U, xRx$ 自分自身は自分自身と関係ある
- (2) 対称律 $xRy \rightarrow yRx$ 自分の関係者にとって自分自身は関係者
- (3) 推移律 $xRy \wedge yRz \rightarrow xRz$ 関係者の関係者は関係者

同値関係と半順序関係の違い

Def. 2

U 上の関係 R が以下の条件を満たすとき、半順序(関係)と呼ぶ。

(1) 反射律 $\forall x \in U[xRx]$

(2) 反対称律 $xRy \wedge yRx \rightarrow x = y$

(3) 推移律 $xRy \wedge yRz \rightarrow xRz$

このとき、 (U, R) を半順序集合と呼ぶ。

反対称律 の意味

$$xRy \wedge yRx \rightarrow x = y$$

⇔

$$x \simeq y \text{ ならば } x = y$$

反対称律 の意味

$$xRy \wedge yRx \rightarrow x = y$$

の対偶

$$x \neq y \rightarrow \neg(xRy \wedge yRx)$$

異なる任意の x, y では, かならず $x \Leftrightarrow y$ がない。

\Leftrightarrow

$x \rightarrow y$ か $x \leftarrow y$ か \rightarrow も \leftarrow もつかないかのどれか。

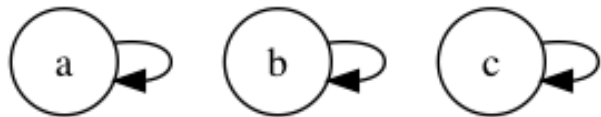
半順序関係の表現

半順序を表現するためによく使われる記号

$\leq, \subseteq, \lesssim, \gtrsim, \ll$

など

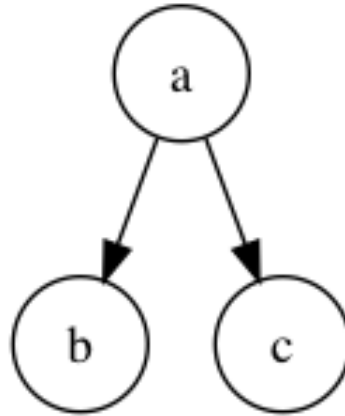
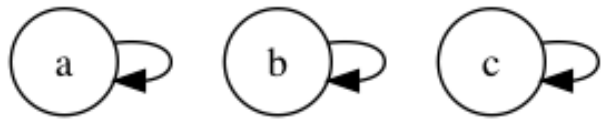
半順序の定義 (有向グラフ)



(1) 反射律

自分に→が
つく

半順序の定義 (有向グラフ)



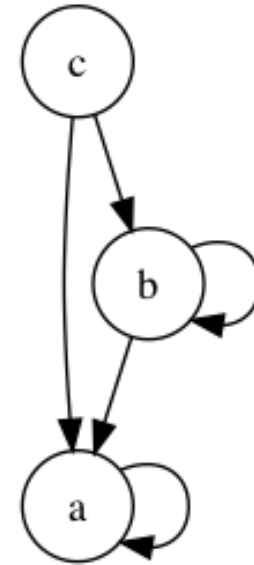
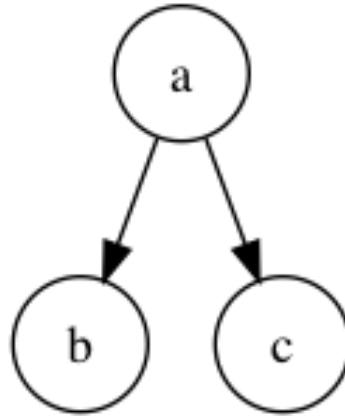
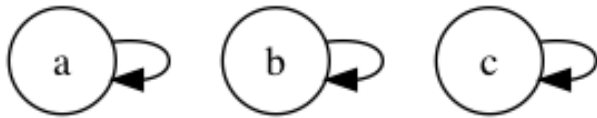
(1) 反射律

自分に→がつく

(2) 反対称律

(両方の有向枝 \leftrightarrow がついていないところがないこと)

半順序の定義 (有向グラフ)



(1) 反射律

自分に→がつく

(2) 反対称律
(両方の有向枝 \leftrightarrow がついていないところがないこと)

(3) 推移律
(有向枝をたどっていける頂点には必ず直接、有向枝がついている)

再掲： 同値関係

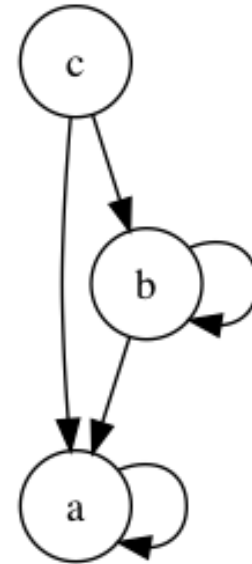
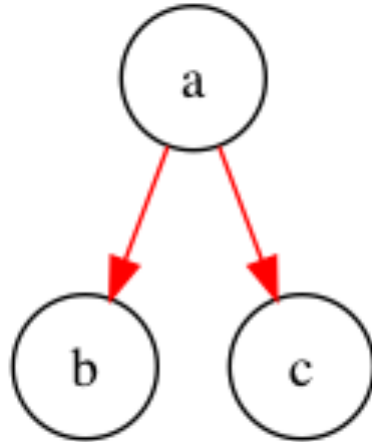
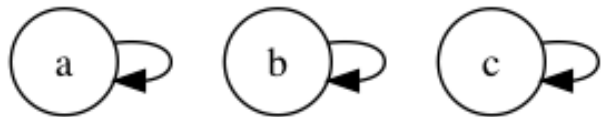
Def 3.

U 上の関係 R が以下の条件を満たすとき、 R を同値関係と呼ぶ。

- (1) 反射律 $\forall x \in U, xRx$
- (2) 対称律 $xRy \rightarrow yRx$
- (3) 推移律 $xRy \wedge yRz \rightarrow xRz$

このとき、 (U, R) を同値集合と呼ぶ。

半順序の定義 (有向グラフ)



(1) 反射律

自分に→がつく

(2) 反対称律

ここが同値関係との違い

対象律: 双方向有向枝
 \Leftrightarrow がない

(3) 推移律

(有向枝をたどっていける頂点には必ず直接、有向枝がついている)

例題 1

\mathbb{N} 上の関係 $>$ は、半順序か？その理由を証明せよ。

例題 1

\mathbb{N} 上の関係 $>$ は、半順序か？その理由を証明せよ。

[証明]

半順序関係でない。 $x = 1$ を仮定すると、 $1 \not> 1$ であり、 $\exists x \in \mathbb{N}[x \not> x]$ 。反射律 $\forall x \in A[xRx]$ は成り立たない。 \mathbb{N} 上の関係 $>$ は、半順序でない。 ■

例題2.

$A = \{a, b\}$ とし, A の冪集合を 2^A とする。
 2^A の要素の包含関係 \subseteq は半順序関係であることを証明せよ。

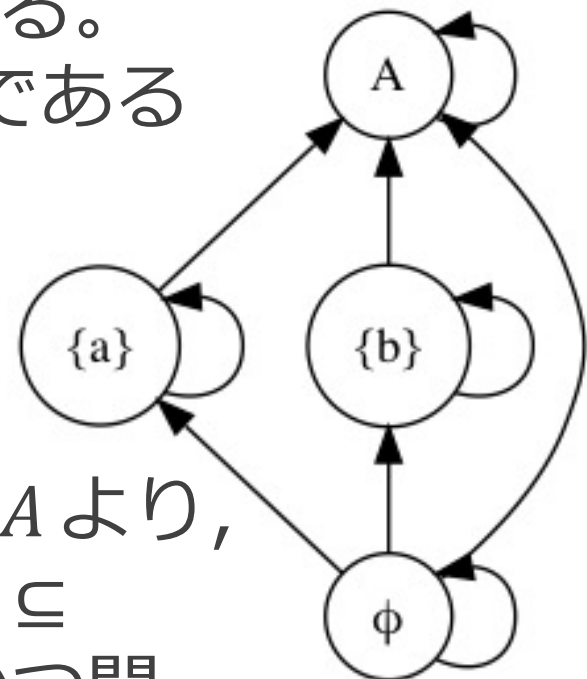
例題2.

$A = \{a, b\}$ とし, A の冪集合を 2^A とする。
 2^A の要素の包含関係 \subseteq は半順序関係であることを証明せよ。

[証明]

$$2^A = \{\emptyset, \{a\}, \{b\}, A\}$$

$\emptyset \subseteq \emptyset$, $\{a\} \subseteq \{a\}$, $\{b\} \subseteq \{b\}$, $A \subseteq A$ より,
反射律を満たす。さらに $\emptyset \subseteq \{a\}$, $\emptyset \subseteq$
 $\{b\}$, $\emptyset \subseteq A$, $\{a\} \subseteq A$, $\{b\} \subseteq A$ で かつ関
係グラフに双方向辺はないので, 反対称律、
推移律を満たす。従って, 包含関係 \subseteq は半
順序関係である。



例題3.

\mathbb{Z}^+ 上の関係 $|$ を $x|y \Leftrightarrow x$ は y の約数
と定義すると, $|$ が半順序関係であることを証明せよ。

例題3.

\mathbb{Z}^+ 上の関係 $|$ を $x|y \Leftrightarrow x$ は y の約数

と定義すると, $|$ が半順序関係であることを証明せよ。

[証明]

$\forall x \in \mathbb{Z}^+ [x = 1 \times x]$ より $\forall x \in \mathbb{Z}^+ [x|x]$ 。反射律を満たす。
 $\exists k \in \mathbb{Z}^+ s.t., y = kx \wedge \exists k' \in \mathbb{Z}^+ s.t., x = k'y$ は $k = k' = 1$ のとき、 $x = y$ のときのみであり、反対称律を満たす。
 $\exists k \in \mathbb{Z}^+, s.t., y = kx \wedge \exists k' \in \mathbb{Z}^+ s.t., z = k'y$ のとき、 $z = kk'x$ より $\exists k'' = kk' \in \mathbb{Z}^+; z = k''x$, 推移律を満たす。

従って, $|$ は半順序関係。 ■

例題4.

$(m, n), (m', n') \in \mathbb{Z} \times \mathbb{Z}$ に対し, $(m, n) \preceq (m', n') \Leftrightarrow (m \leq m') \wedge (n \leq n')$ のとき, \preceq は半順序関係であることを証明せよ。

例題4.

$(m, n), (m', n') \in \mathbb{Z} \times \mathbb{Z}$ に対し, $(m, n) \preceq (m', n') \Leftrightarrow (m \leq m') \wedge (n \leq n')$ のとき, \preceq は半順序関係であることを証明せよ。

[証明] $(m \leq m) \wedge (n \leq n)$ より $(m, n) \preceq (m, n)$ 。
反射律を満たす。 $(m, n) \preceq (m', n')$ かつ
 $(m', n') \preceq (m, n)$ のとき, $(m \leq m') \wedge (n \leq n') \wedge (m' \leq m) \wedge (n' \leq n)$ より, $(m, n) = (m', n')$ 。
反対称律を満たす。 $(m, n) \preceq (m', n')$ かつ
 $(m', n') \preceq (m'', n'')$ のとき, $(m \leq m') \wedge (n \leq n') \wedge (m' \leq m'') \wedge (n' \leq n'')$ より, $(m \leq m'') \wedge (n \leq n'')$ 。推移律を満たす。従って, \preceq は半順序関係。 ■

4. 全順序関係

Def 3. U 上の関係 R が以下の条件を満たすとき、

全順序(関係)と呼ぶ。

- (1) 反射律 $\forall x \in U [xRx]$
- (2) 反対称律 $xRy \wedge yRx \rightarrow x = y$
- (3) 推移律 $xRy \wedge yRz \rightarrow xRz$
- (4) 完全性 $\forall x, \forall y \in U, [xRy \vee yRx]$

このとき, (U, R) を全順序集合と呼ぶ。

例題 1 .

- (1) \mathbb{N} 上の関係 \leq は,半順序,全順序か？
- (2) \mathbb{N} 上の関係 $<$ は,半順序,全順序か？

例題 1 .

(1) \mathbb{N} 上の関係 \leq は,半順序,全順序か?

(2) \mathbb{N} 上の関係 $<$ は,半順序,全順序か?

[正答]

(1)反射律: $\forall n \in \mathbb{N}$ について $n \leq n$. 反対称

律: $\forall a, \forall b \in \mathbb{N}, a \leq b \wedge b \leq a \rightarrow a = b$.

推移律: $\forall a, \forall b, \forall c \in \mathbb{N}, a \leq b \wedge b \leq c \rightarrow a \leq c$.

より, \mathbb{N} 上の関係 \leq は半順序. さらに $\forall a, \forall b \in \mathbb{N}$ について $a \leq b \vee b \leq a$. 従って, 全順序でもある.

(2)反射律: $\forall n \in \mathbb{N}$ について $n < n$. 従って, \mathbb{N} 上の関係 $<$ は半順序ではない. 全順序でもない.

例題2.

$A = \{a, b\}$ とし, A の冪集合を 2^A とする。
 2^A の要素の包含関係 \subseteq は全順序関係か？

例題2.

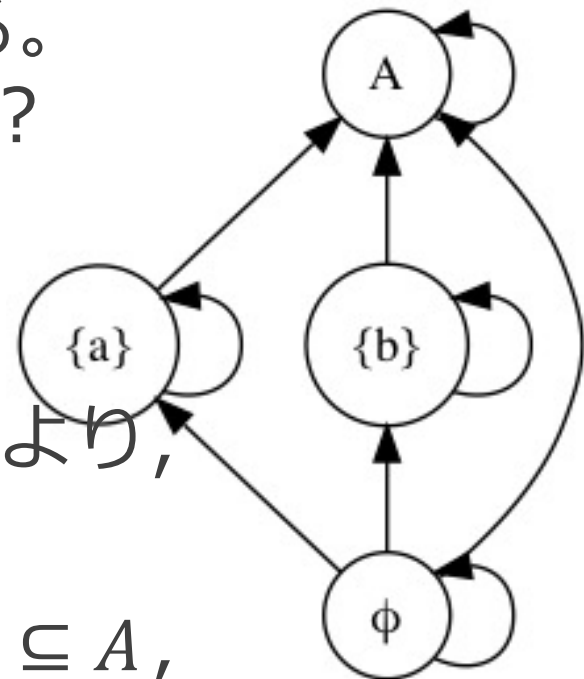
$A = \{a, b\}$ とし, A の冪集合を 2^A とする。
 2^A の要素の包含関係 \subseteq は全順序関係か？

[正答]

$$2^A = \{\emptyset, \{a\}, \{b\}, A\}$$

$\emptyset \subseteq \emptyset$, $\{a\} \subseteq \{a\}$, $\{b\} \subseteq \{b\}$, $A \subseteq A$ より,
反射律を満たす。

さらに $\emptyset \subseteq \{a\}$, $\emptyset \subseteq \{b\}$, $\emptyset \subseteq A$, $\{a\} \subseteq A$,
 $\{b\} \subseteq A$ より, 反対称律、推移律を満たす。
従って, 包含関係 \subseteq は半順序関係である。
しかし, $\{a\}, \{b\}$ は比較不可能で全順序ではない。
■



例題3

$A = \{a, b, c, \dots, x, y, z\}$: アルファベット文字列

で $a < b < c < \dots x < y < z$ と定義する. 任意の

$x = (x_1, x_2, \dots, x_n), y = (y_1, y_2, \dots, y_n) \in A^n$ に対して,

$$x \preceq y: \begin{cases} x_1 < y_1 \\ \vee (x_1 = y_1 \wedge x_2 < y_2) \\ \vee (x_1 = y_1 \wedge x_2 = y_2 \wedge x_3 < y_3) \\ \vdots \\ \vee (x_1 = y_1 \wedge x_2 = y_2 \wedge x_3 = y_3 \cdots \wedge x_{n-1} = y_{n-1} \wedge x_n < y_n) \\ \vee (x_1 = y_1 \wedge x_2 = y_2 \wedge x_3 = y_3 \cdots \wedge x_{n-1} = y_{n-1} \wedge x_n = y_n) \end{cases}$$

と定義すると, \preceq は全順序関係か?

例題3

$A = \{a, b, c, \dots, x, y, z\}$: アルファベット文字列で $a < b < c < \dots < x < y < z$ と定義する. 任意の $x = (x_1, x_2, \dots, x_n), y = (y_1, y_2, \dots, y_n) \in A^n$ に対して,

$$x \preceq y: \begin{cases} x_1 < y_1 \\ \vee (x_1 = y_1 \wedge x_2 < y_2) \\ \vee (x_1 = y_1 \wedge x_2 = y_2 \wedge x_3 < y_3) \\ \vdots \\ \vee (x_1 = y_1 \wedge x_2 = y_2 \wedge x_3 = y_3 \cdots \wedge x_{n-1} = y_{n-1} \wedge x_n < y_n) \\ \vee (x_1 = y_1 \wedge x_2 = y_2 \wedge x_3 = y_3 \cdots \wedge x_{n-1} = y_{n-1} \wedge x_n = y_n) \end{cases}$$

と定義すると, \preceq は全順序関係か?

[正答] $(x_1 = x_1 \wedge x_2 = x_2 \wedge x_3 = x_3 \cdots \wedge x_{n-1} = x_{n-1} \wedge x_n = x_n)$ より

反射律: $x \preceq x$ が成り立つ. 反対称律: $\forall x, \forall y \in A^n, x \preceq y \wedge y \preceq x \rightarrow$

$(x_1 = y_1 \wedge x_2 = y_2 \wedge x_3 = y_3 \cdots \wedge x_{n-1} = y_{n-1} \wedge x_n = y_n) \rightarrow x = y.$

推移律: $\forall x, \forall y, \forall z \in A^n, x \preceq y \wedge y \preceq z$ のとき、

$$x_1 < z_1 \vee (x_1 = z_1 \wedge x_2 < z_2) \vee (x_1 = z_1 \wedge x_2 = z_2 \wedge x_3 < z_3) \cdots$$

$$\vee (x_1 = z_1 \wedge x_2 = z_2 \wedge x_3 = z_3 \cdots \wedge x_{n-1} = z_{n-1} \wedge x_n < z_n)$$

$$\vee (x_1 = z_1 \wedge x_2 = z_2 \wedge x_3 = z_3 \cdots \wedge x_{n-1} = z_{n-1} \wedge x_n = z_n)$$

より, $x \preceq z.$ すべての二つの $\forall x, \forall y$ について $x \preceq y \vee y \preceq x,$ 全順序でもある. ■

例題 3 の定義の順序関係

辞書式順序
と呼ぶ.

例

$\text{arc} \preceq \text{are} \preceq \text{arm} \preceq \text{book}$

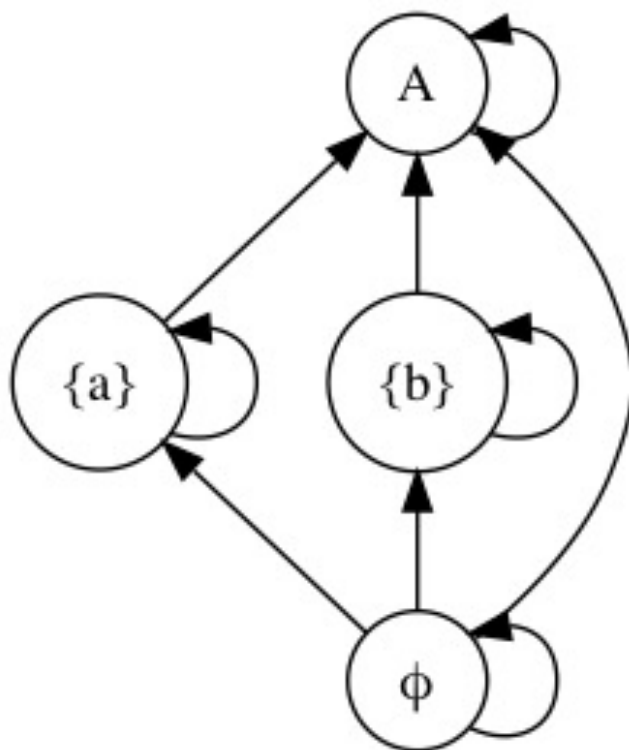
半順序の図示化

$A = \{a, b\}$ とし, A の冪集合を 2^A とする。
 2^A の要素の包含関係 \subseteq は半順序関係を
グラフで図示化せよ。

半順序の図示化

$A = \{a, b\}$ とし, A の冪集合を 2^A とする。
 2^A の要素の包含関係 \subseteq は半順序関係を
グラフで図示化せよ。

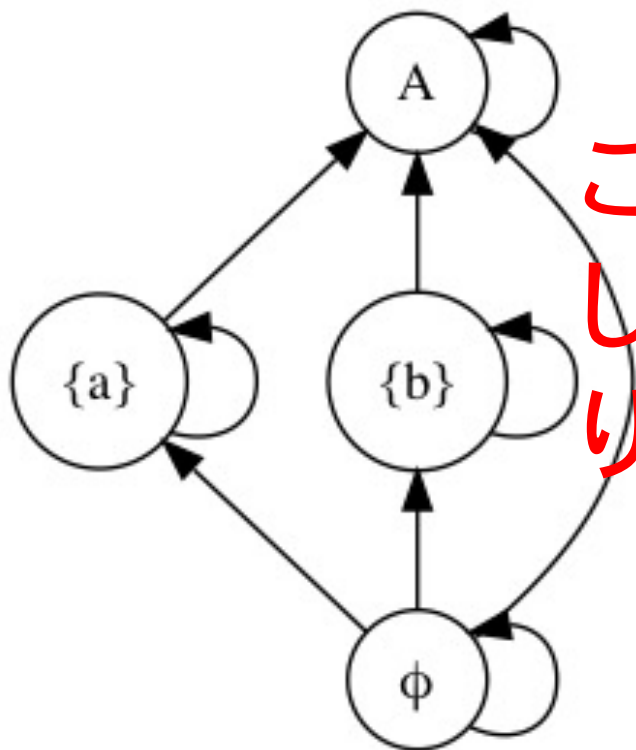
[回答]



半順序の図示化

$A = \{a, b\}$ とし, A の冪集合を 2^A とする。
 2^A の要素の包含関係 \subseteq は半順序関係を
グラフで図示化せよ。

[回答]

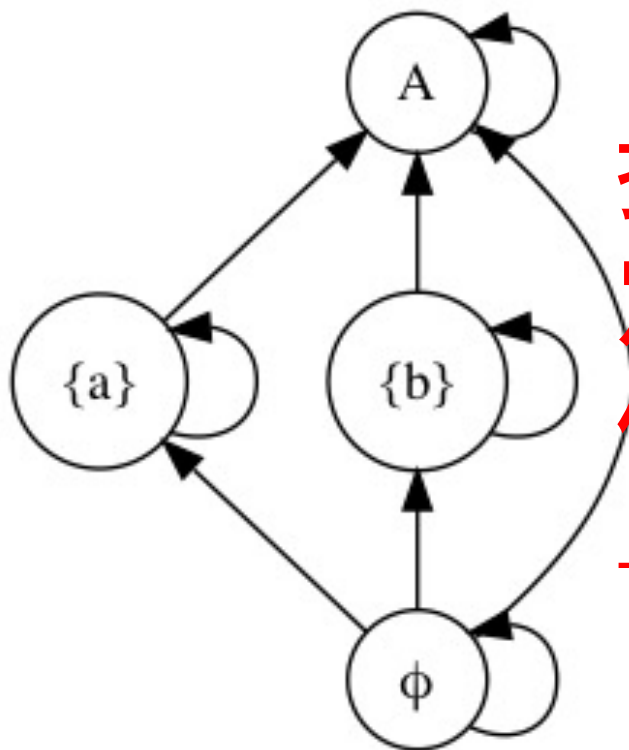


ごちゃごちゃ
していてわか
りにくい!!

半順序の図示化

$A = \{a, b\}$ とし, A の冪集合を 2^A とする。
 2^A の要素の包含関係 \subseteq は半順序関係を
グラフで図示化せよ。

[回答]



推移律で判
定できる関
係は削除
→ハッセ図

5. ハッセ図

半順序集合の図示手法.

Def . 4.

有限な半順序集合 U について,

$u, v \in U, s.t. u \ll v$ のとき, 点 v を点 u の上に描き, 線で結んだものをハッセ図と呼ぶ.

ただし, $u \ll v: u < v$ かつ $[u < x < v]$ となる x は存在しない.

$u \ll v$ は, u が v の直後に来る要素を示している.

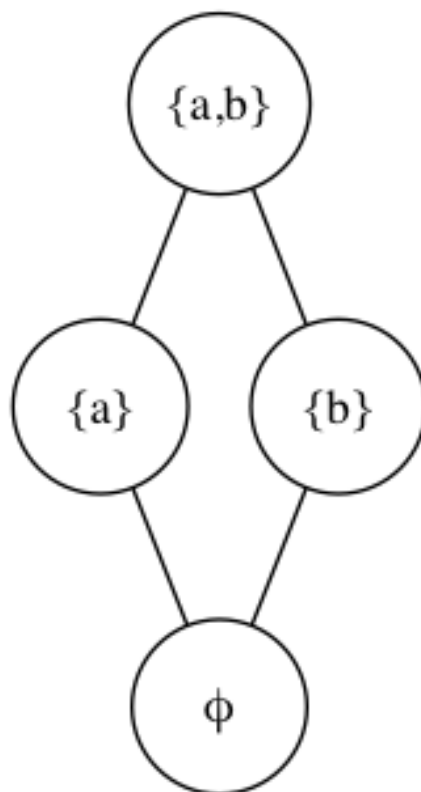
半順序集合 (U, R) のハッセ図の描き方

1. U の各要素を頂点とする.
2. R で小さい頂点を下に大きい頂点を上に描く.
3. $u, v \in U, s.t. u \ll v$ のとき, 点 v と点 u に辺を描く.
4. どの辺も下から上に単調に描かれる.

半順序の図示化

$A = \{a, b\}$ とし, A の冪集合を 2^A とする。
 2^A の要素の包含関係 \subseteq は半順序関係
のハッセ図を描け.

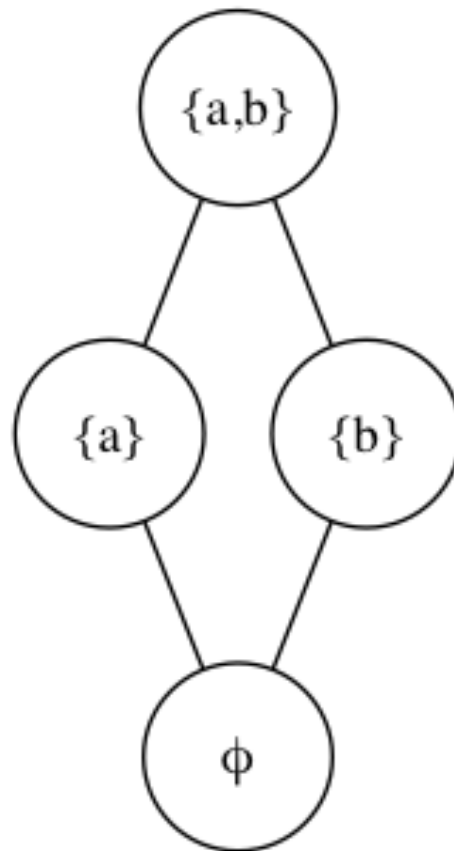
[回答]



すっきり!!!

ハッセ図の意味

x, y が比較可能 $\Leftrightarrow x, y$ を結ぶ下から上への
(上から下への)単調な道が存在する



(a,b)とa 比較可能
(a,b)とb 比較可能
(a,b)と \emptyset 比較可能
aとb 比較不可能
aと \emptyset 比較可能
bと \emptyset 比較可能

例題1

$A = \{x, y, z\}$ の冪集合 2^A は包含関係について半順序集合である. そのハッセ図を描け.

例題1

$A = \{x, y, z\}$ の冪集合 2^A は包含関係について半順序集合である。 そのハッセ図を描け。

[回答]

まず 2^A を列挙する。

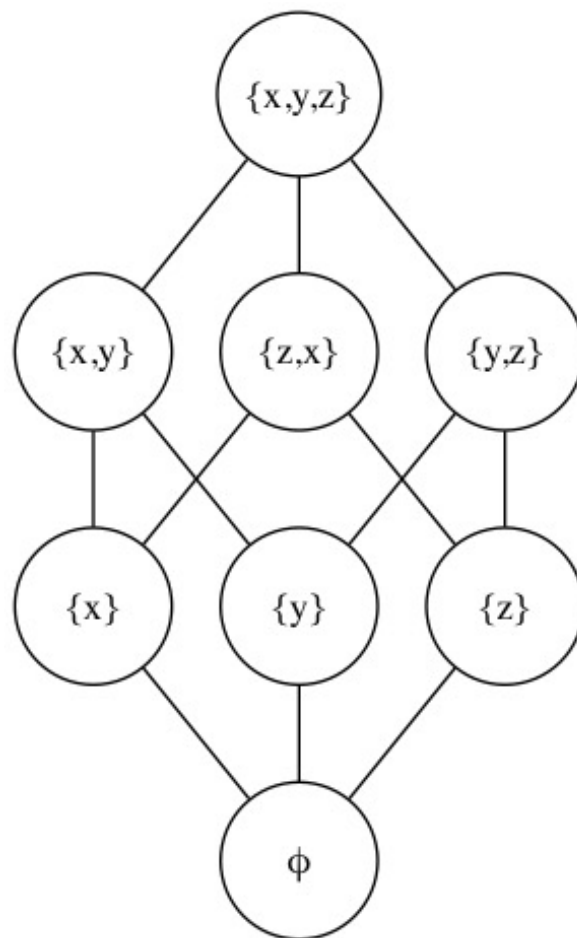
$$2^A = \{\{\emptyset\}, \{x\}, \{y\}, \{z\}, \{x, y\}, \{x, z\}, \{y, z\}, \{x, y, z\}\}$$

2^A の要素について $a \ll b$ の関係にある要素について b を a の上に描き,線を引く。

例題1

$A = \{x, y, z\}$ の冪集合 2^A は包含関係について半順序集合である。 そのハッセ図を描け。

[回答]



例題2

$A = \{1, 2, 3, 6, 12, 18, 24\}$ のとき, 半順序集合
($A, x|y$ (x は y の約数))

とするととき, ハッセ図を描け.

例題2

$A = \{1, 2, 3, 6, 12, 18, 24\}$ のとき, 半順序集合
($A, x|y$ (x は y の約数))

とするととき, ハッセ図を描け.

[解答]

$1 \ll 2, 1 \ll 3, 2 \ll 6, 3 \ll 6, 6 \ll 12, 6 \ll 18, 12 \ll 24$

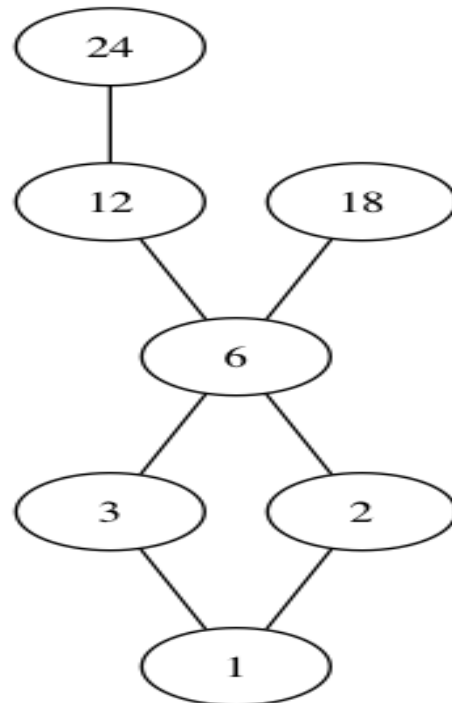
例題2

$A = \{1, 2, 3, 6, 12, 18, 24\}$ のとき, 半順序集合
($A, x|y$ (x は y の約数))

とするととき, ハッセ図を描け.

[解答]

$1 \ll 2, 1 \ll 3, 2 \ll 6, 3 \ll 6, 6 \ll 12, 6 \ll 18, 12 \ll 24$



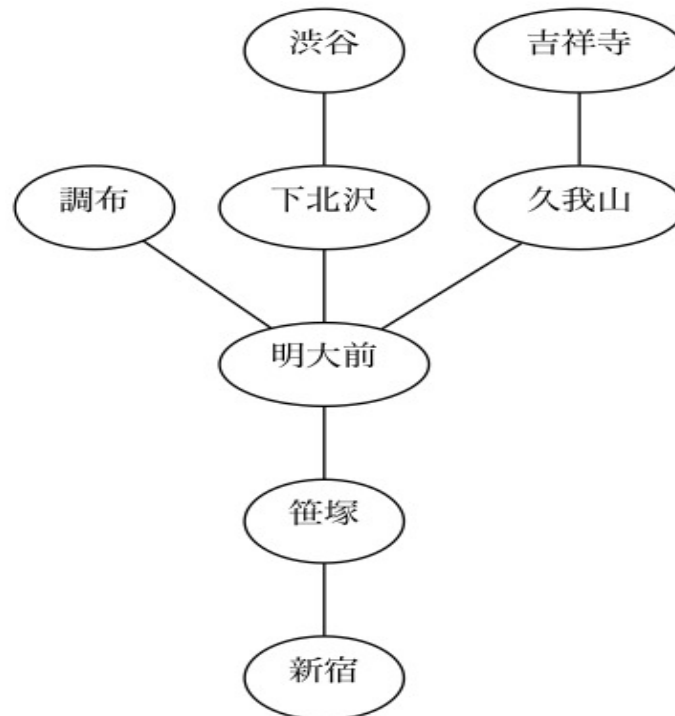
例題3

京王線,井の頭線で, $a \preceq b$ を新宿駅から a 駅を通過して, b 駅に最短距離で着くこと、とする. {新宿, 笹塚, 明大前, 久我山, 吉祥寺, 下北沢, 渋谷, 調布}上での \preceq の順序関係をハッセ図で示せ.

例題3

京王線,井の頭線で, $a \leq b$ を新宿駅から a 駅を通過して, b 駅に最短距離で着くこと、とする. {新宿, 笹塚, 明大前, 久我山, 吉祥寺, 下北沢, 渋谷, 調布} 上での \leq の順序関係をハッセ図で示せ.

[回答]



6. 最大元, 最小元

Def. 5

(U, \leq) を半順序集合とする.

$u \in U, s. t. \forall x \in U, x \leq u$ を U の**最大元**といい,
 $\max U$ と書く.

$v \in U, s. t. \forall x \in U, v \leq x$ を U の**最小元**といい,
 $\min U$ と書く.

6. 最大元, 最小元

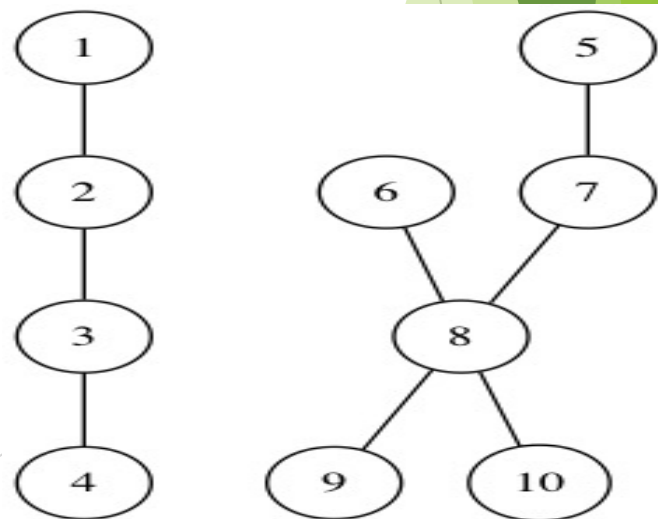
Def. 5

(U, \leq) を半順序集合とする.

$u \in U, s. t. \forall x \in U, x \leq u$ を U の**最大元**といい,
 $\max U$ と書く.

$v \in U, s. t. \forall x \in U, v \leq x$ を U の**最小元**といい,
 $\min U$ と書く.

ただし, **$\max U$** や **$\min U$** は
存在しない場合もある.



7. 極大元, 極小元

Def. 6

(U, \leq) を半順序集合とする.

$u \in U, s. t. \forall x \in U, u \leq x \rightarrow u = x$ を U の極大元という.

(u より大きいものはない)

$v \in U, s. t. \forall x \in U, x \leq v \rightarrow v = x$ を U の極小元という.

(u より小さいものはない)

極大元、極小元は有限半順序集合

には必ず存在する

7. 極大元, 極小元

Def. 6

(U, \leq) を半順序集合とする.

$u \in U, s.t. \forall x \in U, u \leq x \rightarrow u = x$ を U の極大元という.

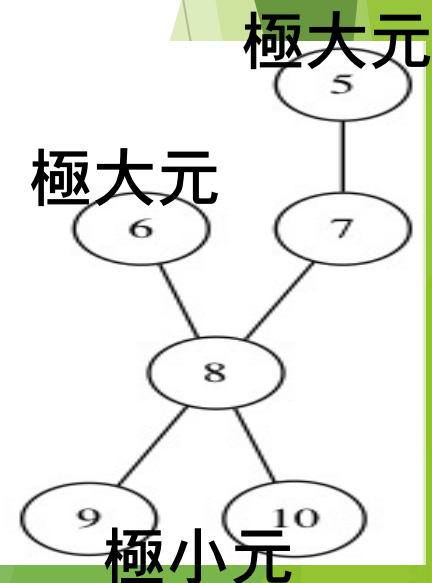
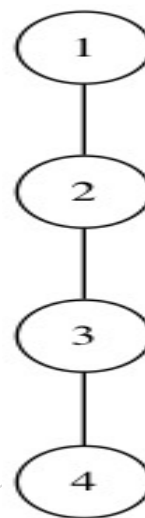
(u より大きいものはない)

$v \in U, s.t. \forall x \in U, x \leq v \rightarrow v = x$ を U の極小元という.

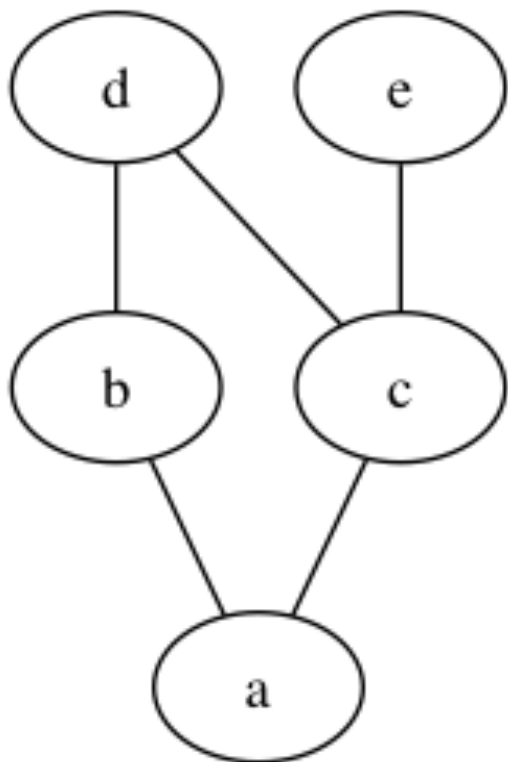
(u より小さいものはない)

極大元、極小元は有限半順序集合

には必ず存在する



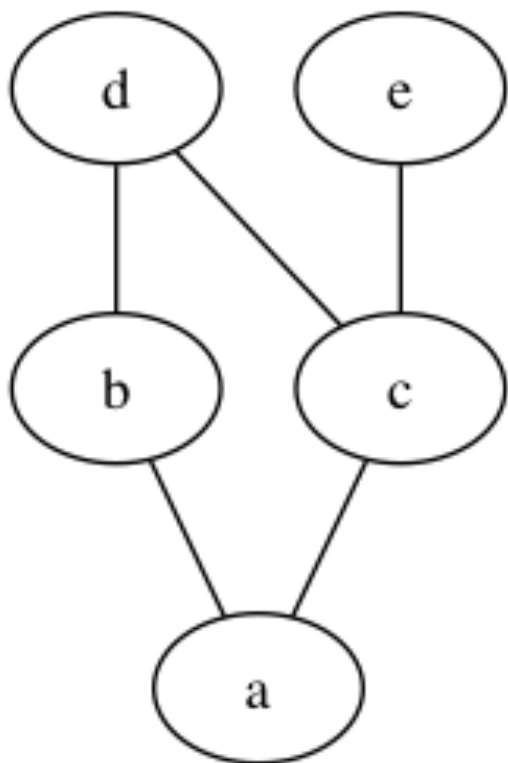
例題



左のハッセ図で，最大元、最小元があれば求めよ。

極大元，極小元をすべて求めよ。

例題



左のハッセ図で，最大元、最小元があれば求めよ。

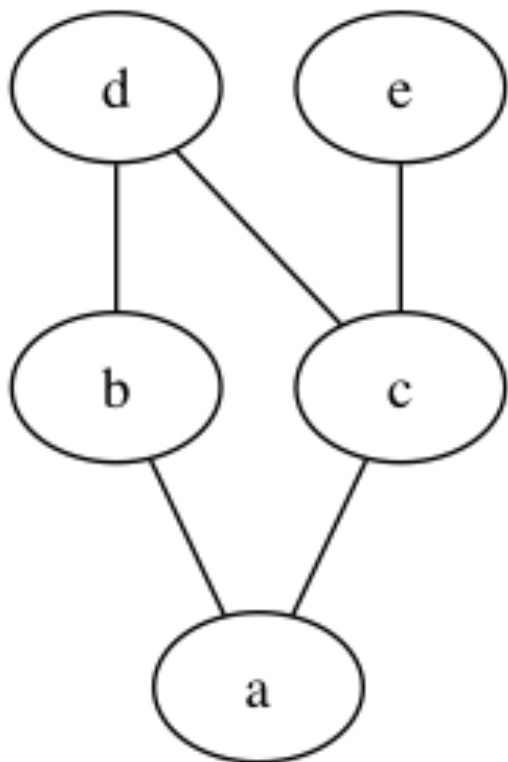
極大元，極小元をすべて求めよ。

[解答]

最大元 なし

最小元 a

例題



左のハッセ図で，最大元、最小元があれば求めよ。

極大元，極小元をすべて求めよ。

[解答]

最大元 なし

最小元 a

極大元 d, e

極小元 a

8. 上限, 下限

Def. 7

(U, \leq) を半順序集合とする.

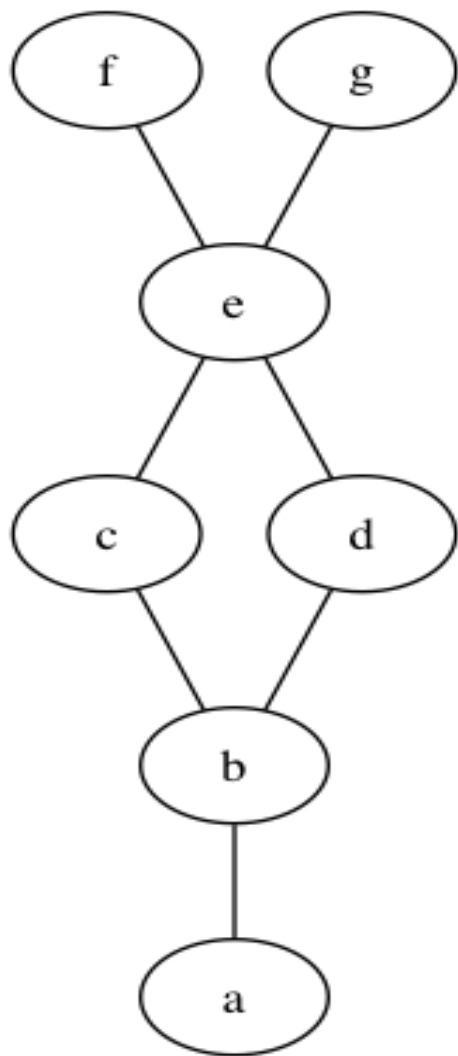
$X \subset U, \forall x \in X, u \in U, x \leq u$ のとき, u を X の**上界**という. X のすべての上界の最小元が存在するとき, それを X の**上限**といい, $\sup(X)$ と書く.

Def. 8

(U, \leq) を半順序集合とする.

$X \subset U, \forall x \in X, v \in U, v \leq x$ のとき, v を X の**下界**という. X のすべての下界の最大元が存在するとき, それを X の**下限**といい, $\inf(X)$ と書く.

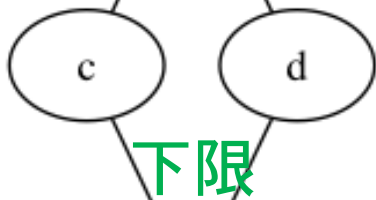
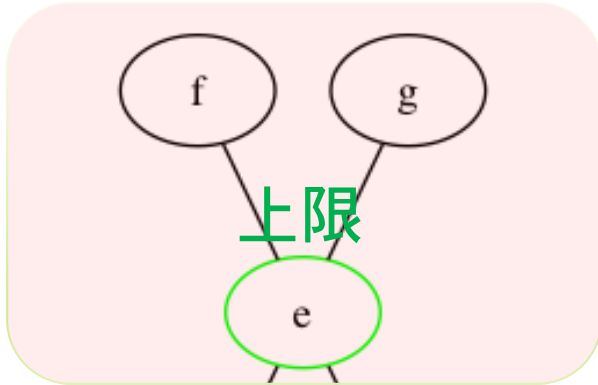
例題1



左図のハッセ図で $X = \{b, c, d, e\}$ とする. このとき, X の上界, 上限, 下界, 下限を求めよ.

例題1

上界



下界

左図のハッセ図で $X = \{b, c, d, e\}$ とする. このとき, X の上界, 上限, 下界, 下限を求めよ.

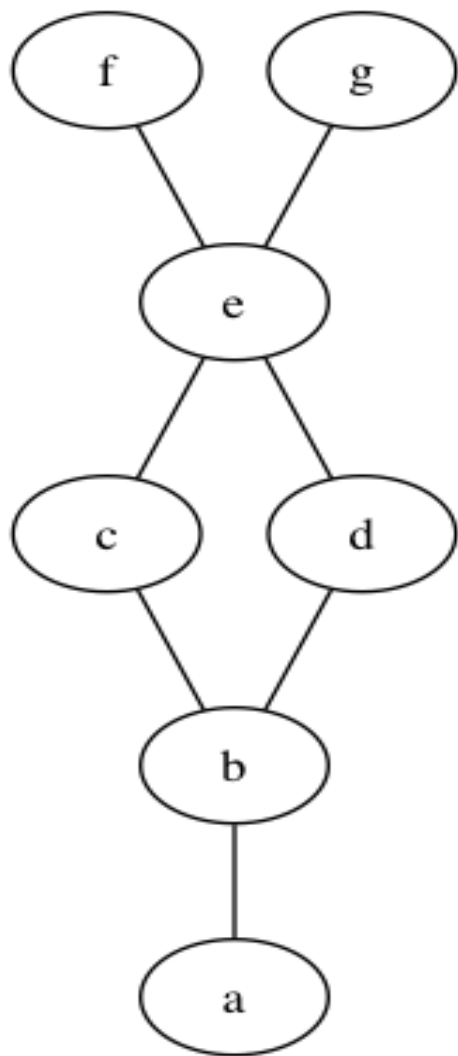
[解答]

上界 $\{e, f, g\}$ 下界 $\{a, b\}$

上限 $\sup(X) = e$

下限 $\inf(X) = b$

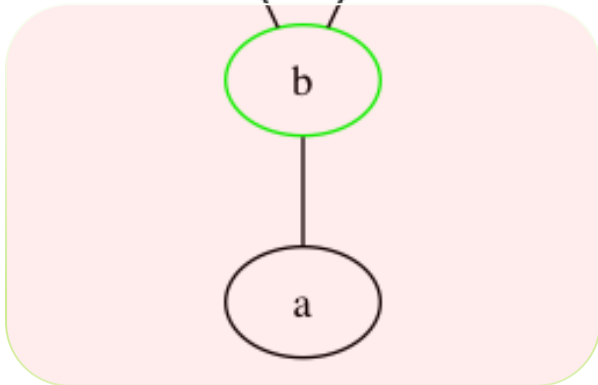
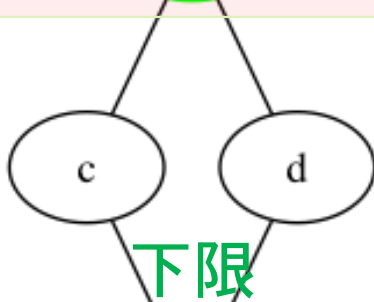
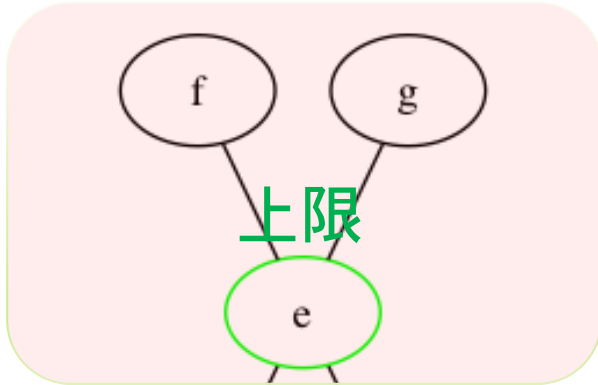
例題2



左図のハッセ図で $X = \{c, d\}$ とする. このとき, X の上界, 上限, 下界, 下限を求めよ.

例題2

上界



下界

左図のハッセ図で $X = \{c, d\}$ とする. このとき, X の上界, 上限, 下界, 下限を求めよ.

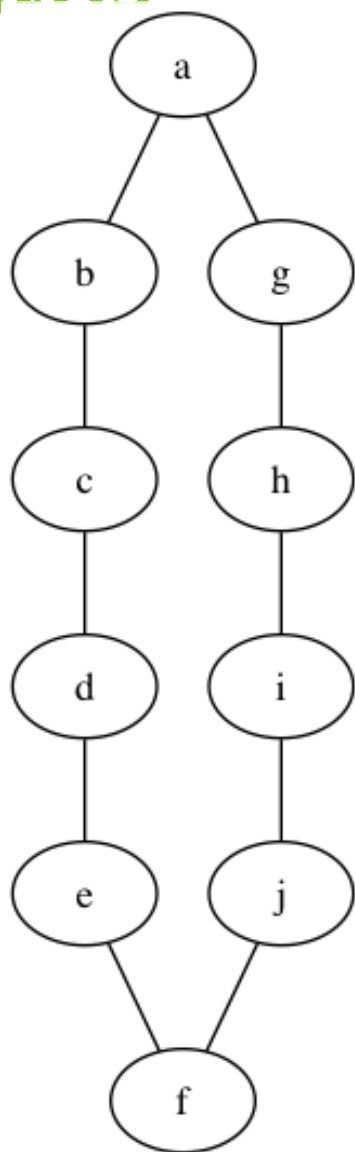
[解答]

上界 $\{e, f, g\}$ 下界 $\{a, b\}$

上限 $\sup(X) = e$

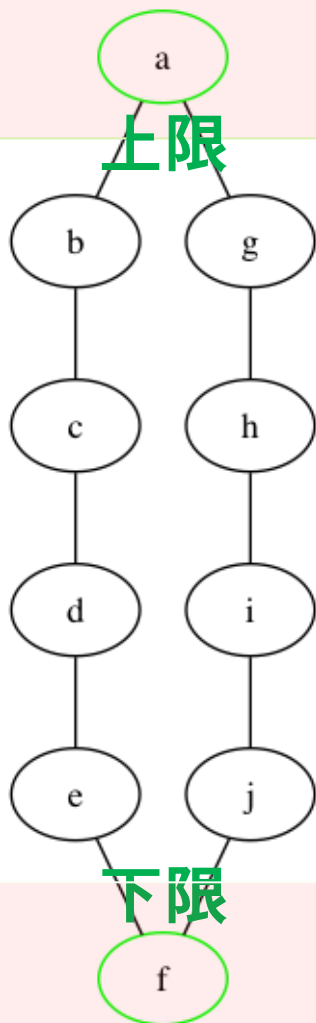
下限 $\inf(X) = b$

例題3



左図のハッセ図で $X = \{d, i\}$ とする. このとき, X の上界, 上限, 下界, 下限を求めよ.

例題3 上界



左図のハッセ図で $X = \{d, i\}$ とする. このとき, X の上界, 上限, 下界, 下限を求めよ.

[解答]

上界 $\{a\}$ 下界 $\{f\}$

上限 $\sup(X) = a$

下限 $\inf(X) = f$

下界

6. まとめ

- ① 半順序
- ② 全順序
- ③ ハッセ図
- ④ 最大元, 最小元
- ⑤ 極大元, 極小元
- ⑥ 上界、下界
- ⑦ 上限、下限

演習問題

問題1

次の関係のうち、半順序関係でないのはどれか。

(1) 整数の集合上で、「等しいか、より大きい」という関係。

(2) 集合のクラスで、「部分集合である」という関係。

(3) 集合のクラスで、「真の部分集合である」という関係。

問題2

$A = \{a, b, c\}$ に次のように半順序 \leq が入っているとき、ハッセ図で表わせ。

(1) $b \leq a, c \leq a$

(2) $b \leq c$

問題3

(X, \leq) を順序集合, A を X の空でない任意の部分集合とすると, (A, \leq) も順序集合になることを証明せよ.

問題4

F を集合 A 上のすべての半順序関係の集合とする.

F 上の関係 R を次のように定義する：

F の任意の要素 α と β について，集合 A の任意の要素 x と y に対して，「 $x\alpha y \Leftrightarrow x\beta y$ 」が真であれば， $\alpha R\beta$ が成立する.

このように定めた R は F 上の半順序関係であることを証明せよ.